

受験番号	
------	--



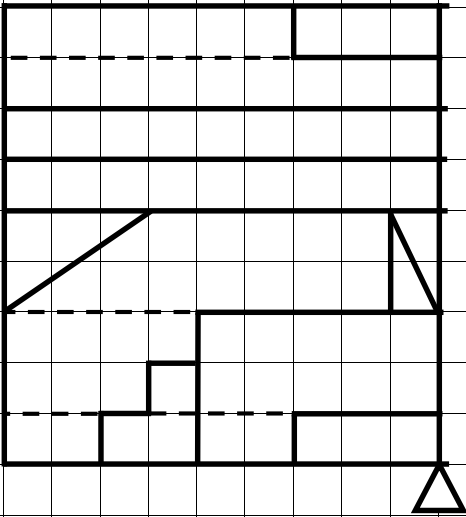
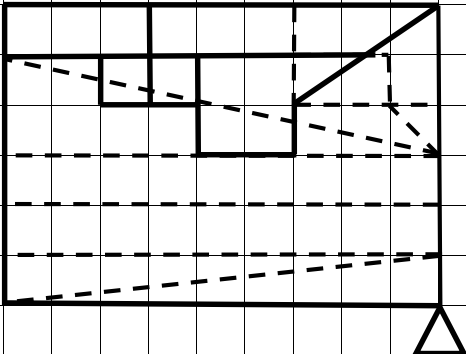
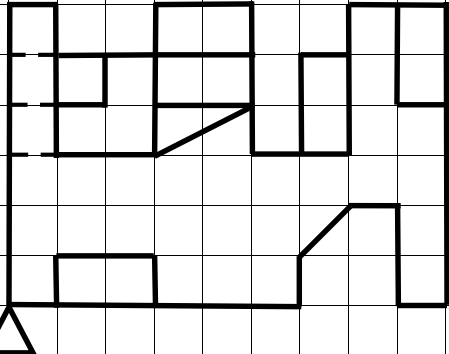
平成 29 年度大阪市公立学校教員採用選考テスト

高等学校 工業(建築) 解答用紙 (1枚のうち1)

1

得点	
----	--

立方体の一辺を投影図の1目盛りとする。

 <p style="text-align: center;">平面図</p>	
基点	
 <p style="text-align: center;">正面図</p>	 <p style="text-align: center;">右側面図</p>
基点	基点